

KỶ THI TỐT NGHIỆP TRUNG HỌC PHỔ THÔNG NĂM 2025

+ **Cho biết:** $\pi = 3,14$; $T (K) = 1 (^\circ C) + 273$; $R = 8,31 \text{ J.mol}^{-1} \cdot K^{-1}$; $N_A = 6,02 \cdot 10^{23}$ hạt/mol; $\ln 2 = 0,693$.

+ **Không làm tròn kết quả các phép tính trung gian.**

PHẦN I. Thí sinh trả lời từ câu 1 đến câu 18. Mỗi câu hỏi thí sinh chỉ chọn một phương án.

Câu 1: Trong hệ đơn vị SI, đơn vị cảm ứng từ là

- A. weber (Wb). B. coulomb (C). **C. tesla (T).** D. volt (V).

Câu 2: Theo mô hình động học phân tử,

- A. các phân tử chuyển động không ngừng.** ✓
B. giữa các phân tử **không** có khoảng cách. ✗
C. giữa các phân tử chỉ có lực đẩy. ✗
D. giữa các phân tử chỉ có lực hút. ✗

Câu 3: Để đúc một vật bằng đồng, cần nung nóng để đồng chuyển từ thể rắn thành thể lỏng. Quá trình này là quá trình

- A. đông đặc. B. hoá hơi. **C. nóng chảy.** D. ngưng tụ.

Câu 4: Thí nghiệm tán xạ hạt alpha của Rutherford là bằng chứng thực nghiệm cho thấy

- A. điện tích dương của nguyên tử tập trung ở một thể tích rất nhỏ.** ✓
B. các electron được phân bố ~~đều~~ trong nguyên tử. ✗
C. điện tích dương của nguyên tử được phân n bố đều trong nguyên tử. ✗
D. khối lượng của nguyên tử được phân bố đều trong nguyên tử. ✗

Câu 5: Trong nguyên tử uranium, có bao nhiêu electron chuyển động xung quanh hạt nhân ${}^{238}_{92}U$? $\rightarrow 92 \text{ proton} \rightarrow 92 \text{ hạt } e$

- A. 238. B. 1. **C. 92.** D. 146.

Câu 6: Trong quá trình **đẳng áp** của một khối khí lí tưởng xác định,

- A. thể tích của khối khí không đổi. ✗
B. thể tích của khối khí giảm khi nhiệt độ của khối khí giảm. ✓ $\frac{V \downarrow}{T \downarrow} = \text{h/s.}$
C. thể tích của khối khí tăng khi nhiệt độ của khối khí giảm. ✗
D. nhiệt độ của khối khí không đổi. ✗

Câu 7: Vật nào sau đây không gây ra từ trường xung quanh nó?

- A. Một thanh nam châm thẳng. ✓
B. Một điện tích đứng yên. ✗
C. Một dây dẫn có dòng điện không đổi. ✓
D. Một nam châm chữ U. ✓

Câu 8: Chiều dòng điện cảm ứng được xác định bằng định luật nào trong các định luật sau đây?

- A. Định luật Coulomb về tương tác điện. B. Định luật Newton về chuyển động.
C. Định luật Ohm cho vật dẫn kim loại. D. Định luật Lenz về cảm ứng điện từ.

Câu 9: Một mặt M (được coi là phẳng) có diện tích S, được đặt trong từ trường đều có độ lớn cảm ứng từ là B, góc giữa cảm ứng từ và vectơ pháp tuyến của mặt M là α . Từ thông qua mặt M được xác định bởi công thức

- A. $BScot \alpha$. B. $BScos \alpha$. C. $BStan \alpha$. D. $BSsin \alpha$.

Câu 10: Gọi Q là nhiệt lượng cần thiết để làm một lượng chất có khối lượng m chuyển hoàn toàn từ thể lỏng sang thể khí ở nhiệt độ sôi. Công thức xác định nhiệt hóa hơi riêng của chất này ở nhiệt độ sôi đó là

- A. $\frac{2Q}{m}$. B. $\frac{Q}{m}$. C. $\frac{m}{Q}$. D. $\frac{Q}{2m}$.

Câu 11: Sự truyền năng lượng nhiệt giữa hai vật được đặt tiếp xúc với nhau chỉ xảy ra khi chúng khác nhau về

- A. khối lượng. B. thế năng. C. nhiệt độ. D. thể tích.

Câu 12: Trong quá trình nung nóng đẳng tích một khối khí lí tưởng xác định,

- A. khối lượng riêng của khối khí tăng. ✗
B. khối lượng riêng của khối khí giảm. ✗
C. áp suất của khối khí giảm. ✗
D. áp suất của khối khí tăng. ✓

Câu 13: Theo mô hình động học phân tử, ở thể lỏng, các phân tử

- A. chỉ dao động quanh vị trí cân bằng cố định. ✗
B. chuyển động hỗn loạn. ✓
C. sắp xếp có trật tự. ✗ (sắp)
D. dao động quanh vị trí cân bằng không cố định. ✓

Câu 14: Hạt nhân càng bền vững nếu

- A. năng lượng liên kết riêng của hạt nhân càng lớn. ✓
B. độ hụt khối của hạt nhân càng lớn.
C. năng lượng liên kết của hạt nhân càng lớn.
D. điện tích của hạt nhân càng lớn.

Câu 15: Trong kí hiệu hạt nhân A_ZX , Z là số

- A. neutron. B. nucleon. C. positron. **D. proton.**

Câu 16: Trong hệ đơn vị SI, đơn vị của nhiệt nóng chảy riêng là

- A. J/K. B. J/(kg. K). C. J/°C. **D. J/kg.**

Câu 17: Nội năng của một khối khí xác định không đổi khi

A. nhiệt độ của khối khí thay đổi. ✗

B. nhiệt độ và thể tích của khối khí không đổi. ✓

C. thể tích của khối khí không đổi. ✗

D. khối khí nhận năng lượng nhiệt từ vật khác. ✗

Câu 18: Công thức định luật I của nhiệt động lực học là $\Delta U = A + Q$, với A là kí hiệu công và Q là kí hiệu

A. nhiệt dung riêng.

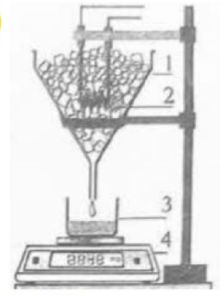
B. nhiệt nóng chảy riêng.

C. nhiệt lượng.

D. nhiệt độ.

PHẦN II. Thí sinh trả lời từ câu 1 đến 4. Trong mỗi ý a), b), c), d) ở mỗi câu, thí sinh chọn đúng hoặc sai.

Câu 1: Một nhóm học sinh thảo luận phương án thí nghiệm làm giảm ảnh hưởng của sự trao đổi nhiệt với môi trường khi đo nhiệt nóng chảy riêng của nước đá. Họ dùng các dụng cụ: Phễu chứa nước đá (1), dây điện trở (2), cốc (3), cân điện tử (4) như hình bên.



Nhóm học sinh cho rằng: Trong thời gian cấp điện cho dây điện trở, nếu xác định được càng chính xác khối lượng nước đá tan chảy vào cốc do nhiệt lượng nhận từ môi trường thì sẽ giảm được càng nhiều ảnh hưởng của sự trao đổi nhiệt giữa nước đá với môi trường.

Phương án thí nghiệm của họ gồm hai giai đoạn và được tóm tắt như sau:

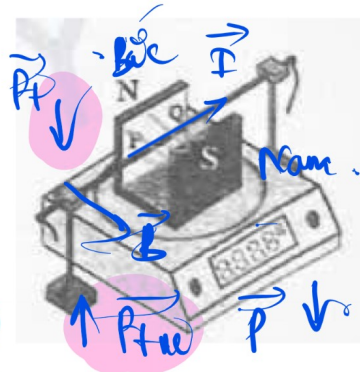
Giai đoạn 1. Chưa cấp điện cho dây điện trở: Xác định khối lượng m_1 của nước đá tan và đã chảy từ phễu vào cốc trong khoảng thời gian t_1 . MT

Giai đoạn 2. Cấp điện cho dây điện trở: Xác định khối lượng m_2 của nước đá tan và đã chảy từ phễu vào cốc trong khoảng thời gian t_2 . MT + điện

Ở cả hai giai đoạn, coi rằng khối lượng nước đá tan và đã chảy vào cốc do nhiệt lượng nhận từ môi trường trong những khoảng thời gian bằng nhau là như nhau và bỏ qua các ảnh hưởng khác (bay hơi, ngưng tụ của nước ...).

- a)** Ở giai đoạn 1, nước đá tan do nhận nhiệt lượng từ môi trường.
- b)** Ở giai đoạn 2, nước đá tan do nhận nhiệt lượng từ dây điện trở và từ môi trường.
- c)** Nếu $t_2 = t_1$ thì có thể coi khối lượng của nước đá tan do nhận nhiệt lượng từ dây điện trở là $m = m_2 - m_1$.
- d)** Phương án thí nghiệm này là một trong những phương án có thể làm giảm được ảnh hưởng của sự trao đổi nhiệt với môi trường đến kết quả thí nghiệm.

Câu 2: Một nam châm được đặt trên cân. Một đoạn dây dẫn cứng được giữ cố định, nằm ngang, vuông góc với các đường sức từ của từ trường đều giữa hai cực của nam châm (hình bên). Cảm ứng từ \vec{B} của từ trường có phương nằm ngang và có độ lớn là B . Chiều dài của phần dây dẫn PQ nằm trong vùng từ trường đều giữa hai cực của nam châm là l (Ban đầu, chưa có dòng điện chạy trong dây dẫn, cân chỉ một giá trị xác định. Sau đó, cho dòng điện không đổi với cường độ I chạy trong dây dẫn theo chiều từ P đến Q. Bỏ qua ảnh hưởng của từ trường Trái Đất.



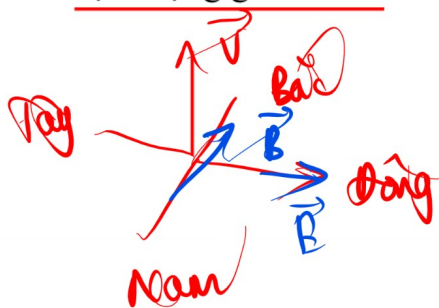
- S a) Cân chỉ giá trị lớn hơn giá trị ban đầu.
- S b) Lực từ do từ trường tác dụng lên đoạn dây PQ hướng thẳng đứng lên trên.
- A c) Lực từ do từ trường tác dụng lên đoạn dây PQ có độ lớn là BIl . $\sin \alpha = \sin 90^\circ = 1$
- A d) Cảm ứng từ B có hướng từ cực N sang cực S của nam châm.

Câu 3: Các quá trình biến đổi hạt nhân là cơ sở của nhiều ứng dụng.

- S a) Hạt nhân carbon ${}^{14}_6\text{C}$ phóng xạ β^- và biến đổi thành hạt nhân nitrogen ${}^{15}_7\text{N}$.
- A b) Phản ứng phân hạch là phản ứng tỏa năng lượng. ${}^{14}_6\text{C} \rightarrow {}^0_{-1}\text{e} + {}^{14}_7\text{N}$
- A c) Phóng xạ là quá trình tự phát và ngẫu nhiên.
- S d) Phản ứng nhiệt hạch là phản ứng thu năng lượng. \times

Câu 4: Sóng điện từ được ứng dụng nhiều trong thông tin liên lạc.

- S a) Tại một điểm có sóng điện từ truyền qua, cường độ điện trường và cảm ứng từ luôn dao động ngược pha. \times cùng pha
- A b) Sóng điện từ là sóng ngang.
- S c) Giả sử tại một điểm có sóng điện từ truyền qua theo phương thẳng đứng hướng lên trên, nếu cảm ứng từ có hướng ~~S~~ nam - bắc thì cường độ điện trường có hướng đông - tây. $\vec{I} \rightarrow \vec{A}$
- S d) Không thể tạo ra hiện tượng giao thoa đối với sóng điện từ.



quy tắc bàn tay phải
 Bàn ngón tay $\rightarrow \vec{B}$
 Ngón cái $\rightarrow \vec{E}$
 Hướng tất $\rightarrow \vec{v}$

PHẦN III. Thí sinh trả lời từ câu 1 đến câu 6.

Dùng thông tin sau cho câu 1 và câu 2: Một khung dây dẫn phẳng, kín có diện tích $2,67 \cdot 10^{-4} \text{ m}^2$, gồm 27 vòng dây được đặt trong từ trường đều sao cho cảm ứng từ \vec{B} vuông góc với mặt phẳng khung dây. Trong 0,620 s, độ lớn cảm ứng từ của từ trường tăng đều từ 0,100 T đến 0,500 T.

Câu 1: Độ lớn suất điện động cảm ứng trong khung dây là $x \cdot 10^{-3} \text{ V}$. Tìm x (làm tròn kết quả đến chữ số hàng phần trăm).

Câu 2: Biết điện trở của khung dây là $0,230 \Omega$. Nhiệt lượng tỏa ra trên khung dây dẫn trong khoảng thời gian từ trường biến thiên là $x \cdot 10^{-5} \text{ J}$. Tìm x (làm tròn kết quả đến chữ số hàng phần trăm).

Dùng thông tin sau cho câu 3 và câu 4: Trong các trạm không gian vũ trụ, cần thu hồi khí oxygen O_2 từ khí carbon dioxide CO_2 do các nhà du hành thở ra để tái sử dụng. Trong một phương pháp thu hồi, cứ 1,00 mol CO_2 tạo ra 1,00 mol O_2 và 1,00 mol methane CH_4 . Sau một thời gian, lượng khí CO_2 thu được là 0,550 kg. Khí CH_4 và O_2 tạo thành từ lượng CO_2 nói trên được chứa trong hai bình khác nhau ban đầu đều chưa chứa khí. Khối lượng mol của CO_2 và O_2 lần lượt là 44,0 g/mol và 32,0 g/mol. Coi các khí là khí lí tưởng.

Câu 3: Bình chứa khí CH_4 có thể tích 164 lít và được duy trì ở nhiệt độ $-41 \text{ }^\circ\text{C}$. Áp suất của khí CH_4 trong bình là $x \cdot 10^5 \text{ Pa}$. Tìm x (làm tròn kết quả đến chữ số hàng phần trăm).

Câu 4: Khi một lượng khí O_2 được rút ra để sử dụng thì áp suất khí trong bình chứa khí O_2 bằng 68% áp suất khí khi chưa rút, nhiệt độ của bình khí không đổi. Khối lượng O_2 đã được rút ra khỏi bình là bao nhiêu kilôgam (làm tròn kết quả đến chữ số hàng phần trăm)?

Dùng thông tin sau cho câu 5 và câu 6: Trước đây, để thuận tiện cho việc xem giờ, các nhà sản xuất đồng hồ đã sơn mặt số và kim của đồng hồ bằng một lớp dạ quang chứa đồng vị phóng xạ radium ${}^{226}_{88}\text{Ra}$ có chu kì bán rã là 1600 năm. Ban đầu, lớp dạ quang này chứa $7,4 \mu\text{g } {}^{226}_{88}\text{Ra}$. Lấy số ngày trong một năm là 365. Khối lượng mol của ${}^{226}_{88}\text{Ra}$ là 226 g/mol.

Câu 5: Độ phóng xạ ban đầu của lượng ${}^{226}_{88}\text{Ra}$ được sơn trên đồng hồ là bao nhiêu megabecoren (MBq, làm tròn kết quả đến chữ số hàng phần trăm)?

Câu 6: Sau bao nhiêu năm thì độ phóng xạ của lượng ${}^{226}_{88}\text{Ra}$ còn lại bằng 6,25% so với độ phóng xạ ban đầu (làm tròn kết quả đến chữ số hàng đơn vị)?

Dùng thông tin sau cho câu 1 và câu 2: Một khung dây dẫn phẳng, kín có diện tích $2,67 \cdot 10^{-4} \text{ m}^2$, gồm 27 vòng dây được đặt trong từ trường đều sao cho cảm ứng từ B vuông góc với mặt phẳng khung dây. Trong 0,620 s, độ lớn cảm ứng từ của từ trường tăng đều từ 0,100 T đến 0,500 T.

Câu 1: Độ lớn suất điện động cảm ứng trong khung dây là $x \cdot 10^{-3} \text{ V}$. Tìm x (làm tròn kết quả đến chữ số hàng phần trăm). 4,65

Câu 2: Biết điện trở của khung dây là $0,230 \ \Omega$. Nhiệt lượng tỏa ra trên khung dây dẫn trong khoảng thời gian từ trường biến thiên là $x \cdot 10^{-5} \text{ J}$. Tìm x (làm tròn kết quả đến chữ số hàng phần trăm). 5,83

$$\textcircled{1} \quad |e_c| = \left| - \frac{\Delta \Phi}{\Delta t} \right| = \frac{\Delta B \cdot N \cdot S}{\Delta t} = \frac{0,4 \cdot 27 \cdot 2,67 \cdot 10^{-4}}{0,62} \\ \approx 4,65 \cdot 10^{-3} \text{ (V)}$$

$$\textcircled{2} \quad |Q = \frac{|e_c|^2}{R} \cdot \Delta t = \frac{(4,65 \cdot 10^{-3})^2}{0,23} \cdot 0,62 \approx 5,83 \cdot 10^{-5} \text{ (J)}$$

Dùng thông tin sau cho câu 3 và câu 4: Trong các trạm không gian vũ trụ, cần thu hồi khí oxygen O_2 từ khí carbon dioxide CO_2 do các nhà du hành thở ra để tái sử dụng. Trong một phương pháp thu hồi, cứ $1,00 \text{ mol } CO_2$ tạo ra $1,00 \text{ mol } O_2$ và $1,00 \text{ mol}$ methane CH_4 . Sau một thời gian, lượng khí CO_2 thu được là $0,550 \text{ kg}$. Khí CH_4 và O_2 tạo thành từ lượng CO_2 nói trên được chứa trong hai bình khác nhau ban đầu đều chưa chứa khí. Khối lượng mol của CO_2 và O_2 lần lượt là $44,0 \text{ g/mol}$ và $32,0 \text{ g/mol}$. Coi các khí là khí lí tưởng.

Câu 3: Bình chứa khí CH_4 có thể tích 164 lít và được duy trì ở nhiệt độ $-41 \text{ }^\circ\text{C}$. Áp suất của khí CH_4 trong bình là $x \cdot 10^5 \text{ Pa}$. Tìm x (làm tròn kết quả đến chữ số hàng phần trăm). 1,45

Câu 4: Khi một lượng khí O_2 được rút ra để sử dụng thì áp suất khí trong bình chứa khí O_2 bằng 68% áp suất khí khi chưa rút, nhiệt độ của bình khí không đổi. Khối lượng O_2 đã được rút ra khỏi bình là bao nhiêu kilôgam (làm tròn kết quả đến chữ số hàng phần trăm)? 0,13

$$\textcircled{3} \quad p = \frac{nRT}{V} = \frac{m_{CO_2}}{M_{CO_2}} \cdot R \cdot T = \frac{0,55 \cdot 10^3}{44} \cdot 8,31 \cdot (-41 + 273)$$

$$= 145045 \approx 1,45 \cdot 10^5 \text{ (Pa)}$$

$$\textcircled{4} \quad \text{Ban đầu, } n_0 = n_{CO_2} = \frac{0,55 \cdot 10^3}{44}$$

$$\text{Mức sau, } p' = 0,68 \cdot p_0$$

$$\left\{ \begin{array}{l} p_0 = \frac{n_0 \cdot R \cdot T_0}{V_0} \\ p' = \frac{n' \cdot R \cdot T_0}{V_0} \end{array} \right. \Rightarrow \frac{p'}{p_0} = \frac{n'}{n_0} = 0,68$$

$$\Rightarrow \Delta m = \Delta n \cdot M = (n_0 - n') \cdot 32$$

$$= 0,32 \cdot n_0 \cdot 32$$

$$= 0,32 \cdot \frac{0,55 \cdot 10^3}{44} \cdot 32 = 128 \text{ (g)}$$

$$\approx 0,13 \text{ (kg)}$$

chứa số hàng phần trăm).

Dùng thông tin sau cho câu 5 và câu 6: Trước đây, để thuận tiện cho việc xem giờ, các nhà sản xuất đồng hồ đã sơn mặt số và kim của đồng hồ bằng một lớp dạ quang chứa đồng vị phóng xạ radium ${}^{226}_{88}\text{Ra}$ có chu kỳ bán rã là 1600 năm. Ban đầu, lớp dạ quang này chứa $7,4 \mu\text{g}$ ${}^{226}_{88}\text{Ra}$. Lấy số ngày trong một năm là 365. Khối lượng mol của ${}^{226}_{88}\text{Ra}$ là 226 g/mol.

Câu 5: Độ phóng xạ ban đầu của lượng ${}^{226}_{88}\text{Ra}$ được sơn trên đồng hồ là bao nhiêu megabecoren (MBq, làm tròn kết quả đến chữ số hàng phần trăm)? 0,27

Câu 6: Sau bao nhiêu năm thì độ phóng xạ của lượng ${}^{226}_{88}\text{Ra}$ còn lại bằng 6,25% so với độ phóng xạ ban đầu (làm tròn kết quả đến chữ số hàng đơn vị)? 6400

$$\textcircled{5} \quad H = \lambda \cdot N = \frac{\ln 2}{T} \cdot n \cdot N_A = \frac{\ln 2}{1600 \cdot 365 \cdot 24 \cdot 3600} \cdot \frac{7,4 \cdot 10^{-6}}{226} \cdot 6,02 \cdot 10^{23}$$
$$\approx 270781 \text{ (Bq)} \approx 0,27 \cdot 10^6 \text{ (MBq)}$$

$$\textcircled{6} \quad H = H_0 \cdot 2^{-t/T}$$
$$\Rightarrow \frac{H}{H_0} = 2^{-t/T} = 6,25\%$$
$$\Rightarrow 2^{-t/1600} = 6,25\% \Rightarrow t = 6400 \text{ (năm)}$$